

GOVERNMENT PROPERTY
NOT FOR SALE

Kindergarten

K



Kindergarten - Math
Ikaapat na Markahan – Modyul 5: Mga Bilang at Katuturan ng Bilang

Unang Edisyon, 2020

Isinasaad sa Batas Republika 8293, Seksiyon 176 na: Hindi maaaring magkaroon ng karapatang-sipi ang sinuman sa anumang akda ng Pamahalaan ng Pilipinas. Gayunpaman, kailangan na may pahintulot ng ahensiya o tanggapan ng pamahalaan na naghanda ng akda kung ito ay pagkakakitaan. Kabilang sa mga maaaring gawin ng nasabing ahensiya o tanggapan ay ang pagtakda ng kaukulang bayad.

Ang mga akda (kuwento, seleksiyon, tula, awit, larawan, ngalan ng produkto o *brand name*, tatak o *trademark*, palabas sa telebisyon, pelikula, atbp.) na ginamit sa modyul na ito ay nagtataglay ng karapatang-ari ng mga iyon. Pinagsumikapang malikom ang mga ito upang makuha ang pahintulot sa paggamit ng materyales. Hindi inaangkin ng mga tagapaglathala at mga may-akda ang karapatang-aring iyon. Ang anumang gamit maliban sa modyul na ito ay kinakailangan ng pahintulot mula sa mga orihinal na may-akda.

Walang anumang bahagi ng nilalaman nito ang maaaring kopyahin o ilimbag sa anumang paraan nang walang pahintulot sa kagawaran.

Inilathala ng Kagawaran ng Edukasyon Dibisyon ng Lungsod ng Pasig.



Komite sa Pagsulat ng Modyul

Manunulat:	Leonor L. Cirera/ Jeralyn C. Caraballo
Tagasuri:	Mario N. Pardiñes
Tagaguhit:	Fatima Claros
Tagalapat:	
Tagapamahala:	Ma. Evalou Concepcion A. Agustin Assistant Schools Division Superintendent OIC-Schools Division Superintendent Carolina T. Rivera CESE OIC-Assistant Schools Division Superintendent Manuel A. Laguerta EdD Chief, Curriculum Implementation Division Victor M. Javeña EdD Chief, School Governance and Operations Division

Education Program Supervisors

Librada L. Agon EdD (EPP/TLE/TVL/TVE)
Liza A. Alvarez (Science/STEM/SSP)
Bernard R. Balitao (AP/HUMSS)
Joselito E. Calios (English/SPFL/GAS)
Norlyn D. Conde EdD (MAPEH/SPA/SPS/HOPE/A&D/Sports)
Wilma Q. Del Rosario (LRMS/ADM)
Ma. Teresita E. Herrera EdD (Filipino/GAS/Piling Larang)
Perlita M. Ignacio PhD (EsP)
Dulce O. Santos PhD (Kindergarten/MTB-MLE)
Teresita P. Tagulao EdD (Mathematics/ABM)

Inilimbag sa Pilipinas, Kagawaran ng Edukasyon – Pambansang Punong Rehiyon
Tanggapan ng mga Paaralan ng Sangay-Lungsod Pasig



Math

K

Ikaapat na Markahan

Modyul para sa Sariling Pagkatuto 5

MGA BILANG AT KATUTURAN NG BILANG



Paunang Salita

Para sa tagapagdaloy:

Malugod na pagtanggap sa asignaturang Math -Kindergarten ng Modyul para sa araling Mga Bilang at Katuturan ng mga Bilang.

Ang modyul na ito ay pinagtulungang idinisenyo, nilinang at sinuri ng mga edukador mula sa Tanggapan ng mga Paaralan ng Sangay-Lungsod Pasig na pinamumunuan ng Nanunuparang Pinuno-Tanggapan ng Pansangay na Tagapamanihala, Ma. Evalou Concepcion A. Agustin, sa pakikipag-ugnayan sa Lokal na Pamahalaan ng lungsod sa pamumuno ng butihing Punong Lungsod, Kgg. Victor Ma. Regis N. Sotto, upang matulungang makamit ng mag-aaral ang pamantayang itinakda ng Kurikulum ng K to12 habang kanilang pinanagumpayan ang pansarili, panlipunan at pang-ekonomikong hamon sa pag-aaral.

Inaasahan na sa pamamagitan ng modyul na ito, ang mga mag-aaral ay makauugnay sa pamamatnubay at malayang pagkatuto ng mga gawain ayon sa kanilang kakayahan, bilis at oras. Naglalayon din itong matulungan ang mag-aaral na makamit ang mga kasanayang pang-ika-21 siglo lalong-lalo na ang *5 Cs (Communication, Collaboration, Creativity, Critical Thinking and Character)* habang isinasaalang-alang ang kanilang mga pangangailangan at kalagayan.

Bilang karagdagan sa pangunahing teksto, makikita ang pinakakatawan ng modyul sa loob kahong ito:



Mga Tala para sa Guro

Ito'y naglalaman ng mga paalala at estratehiyang magagamit sa paggabay sa mag-aaral.

Bilang tagapagdaloy, inaasahang bibigyan mo ng paunang kaalaman ang mag-aaral kung paano gamitin ang modyul na ito. Kinakailangan ding subaybayan at itala ang pag-unlad nila habang hinahayaan silang pamahalaan ang kanilang sariling pagkatuto. Bukod dito, inaasahan mula sa iyo na higit pang hikayatin at gabayan ang mag-aaral habang isinasagawa ang mga gawaing nakapaloob sa modyul.



Para sa mag-aaral:

Malugod na pagtanggap sa **Math- Kindergarten** Modyul ukol sa **Mga Bilang at Katuturan ng mga Bilang!**

Ang modyul na ito ay ginawa bilang tugon sa iyong pangangailangan. Layunin nitong matulungan ka sa iyong pag-aaral habang wala ka sa loob ng silid-aralan. Hangad din nitong madulutan ka ng mga makabuluhang oportunidad sa pagkatuto.

Ang modyul na ito ay may mga bahagi at *icon* na dapat mong maunawaan.



MGA INAASAHAN

Sa bahaging ito malalaman mo ang mga dapat mong matutuhan pagkatapos mong makumpleto ang modyul.



BALIK-ARAL

Dito masusukat ang iyong matutuhan at naunawaan sa mga naunang paksa.



ARALIN

Tatalakayin sa bahaging ito ang aralin batay sa kasanayang pampagkatuto.



MGA PAGSASANAY

Sa bahaging ito, pagbibigay ng guro ng iba't ibang pagsasanay na dapat sagutin ng mga mag-aaral.



PAGLALAHAT

Sa bahaging ito ibunuod ang mahahalagang konsepto na dapat bigyang-halaga.



PAGPAPAHALAGA

Sa bahaging ito ay titiyakin kung ang mga kasanayang pampagkatuto ay naiuugnay at nailalapat sa inyong mga pagpapahalaga.





MGA INAASAHAN

Sa pagtatapos ng aralin ang mga mag-aaral ay inaasahang:

- maiayos ang tatlong bilang mula sa pinakamaliit hanggang sa pinakamalaki at pinakamalaki hanggang sa pinakamaliit.


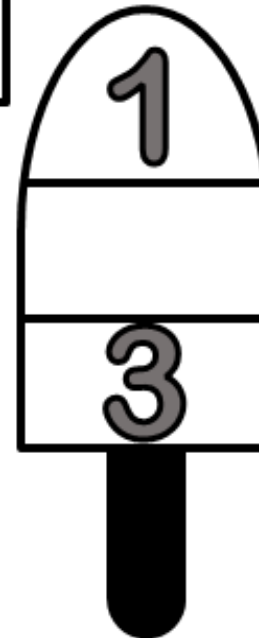
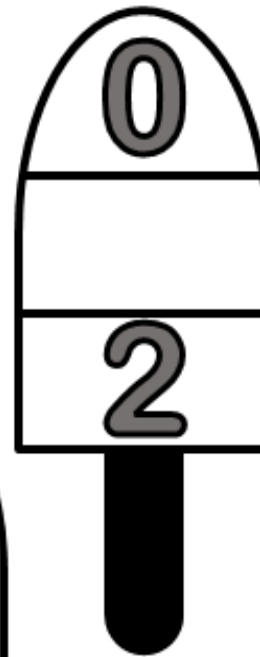

c





BALIK-ARAL

PANUTO: Alamin ang bilang na nasa gitna at isulat ito sa patlang.



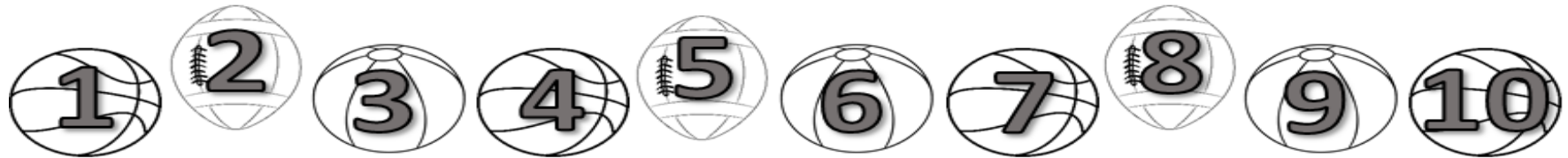
https://toppng.com/clipart-kids-lug-kids-girl-clipart-PNG-free-PNG-Images_225187
https://www.pngfind.com/mpng/ila/Tweet_691-x-1157-4-0-popsicle-drawing.png/





ARALIN 1

PANUTO: Bilangin ang mga bola na nasa ibaba.




Sa pagbibilang o pag-aayos ay dapat magkakasunod ang mga bilang.

Halimbawa:

Ang kasunod ng		ay	
Ang kasunod ng		ay	
Ang kasunod ng		ay	

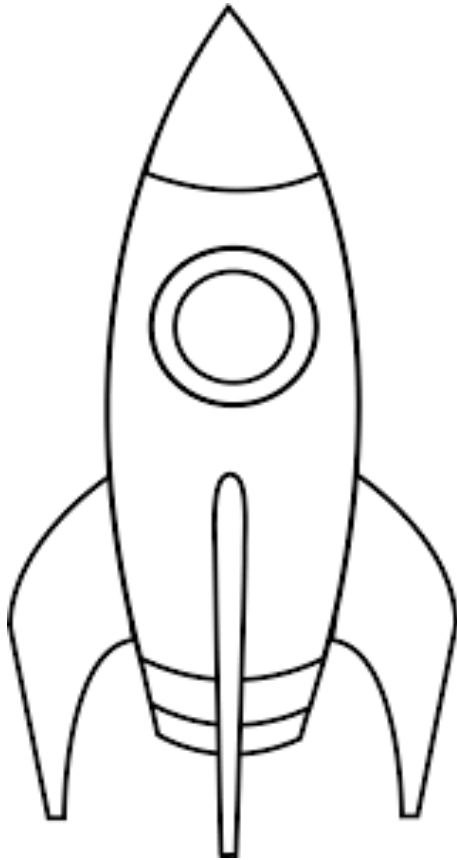
<https://www.hforball.com/drawing-lessons-ball.php>
<https://www.drawingtutorials101.com/how-to-draw-a-rugby-ball>
<https://pixy.org/389256/>
<https://www.vectorstock.com/royalty-free-vector/blank-white-t-shirt-template-vector-1544587>
<https://webstockreview.net/explore/underwear-clipart-sando/>
<https://www.shutterstock.com/search/skirt+sketch>








MGA PAGSASANAY



PANUTO: Isulat ang nawawalang bilang.





0  2

8 9 

4  6

  7

7  

<https://www.pinterest.jp/pin/317151998760174899/>
<https://www.pinterest.ph/pin/411868328418322648/>
<https://www.vectorstock.com/royalty-free-vector/sun-solar-system-astronomy-outline-vector-13886570>
<https://www.vectorstock.com/royalty-free-vector/earth-planet-icon-outline-style-vector-22367498>






PAGLALAHAT

Tandaan:

Paano natin isulat ang mga bilang?

Ito ay isinusulat ng magkakasunod-sunod.



PAGPAPAHALAGA

Isang umaga si Ben ay inutusan ng kanyang Nanay na bumili ng asin sa tindahan. Nakita siya ng kanyang mga kaibigan at niyaya siyang maglaro sapagkat gustong-gusto ni Ben ang paglalaro. Naisip niya na sumali sandali sa kanila. Napasarap siya sa paglalaro hanggang sa nakalimutan na niya ang utos ng kanyang Nanay.

Tanong:


Kung ikaw si Ben, gagawin mo din ba ang kanyang ginawa? **Bakit?**

Ugaliin natin ang pagsunod sa utos ng ating mga magulang o guro.





SUSI SA PAGWAWASTO



BALIK-ARAL

PANUTO: Isulat ang nawawalang bilang.

6,8	9,5	
5	10	1
Pagsasanyay:		
2	4	
9	1	5
Balik-aral:		

Cloud 1: 3, -, -

Cloud 2: 4, -, -

Cloud 3: 8, -

Cloud 4: -, -, 2

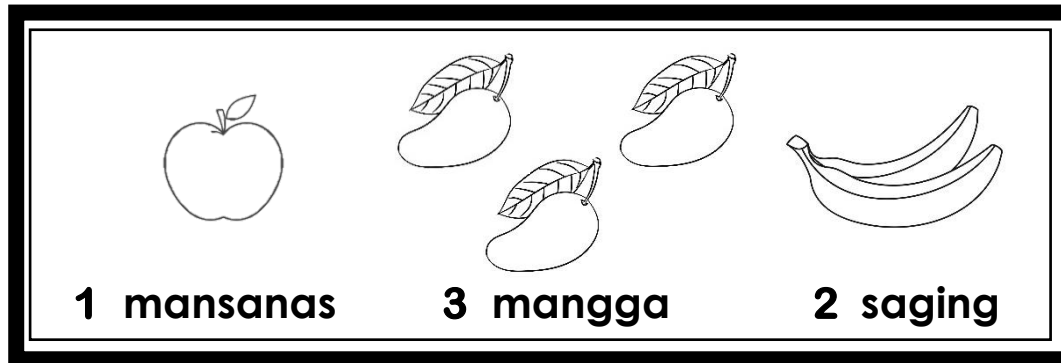
Cloud 5: 5, 6, -





ARALIN 2

PANUTO: Pakinggan ang guro o magulang.



1. Ilan lahat ang prutas na mayroon ako? _____
2. Ano-ano ang mga prutas na ito? _____
3. Ilan ang bilang ng mansanas? _____
4. Ilan ang bilang ng saging? _____
5. Ilan naman ang bilang ng mangga? _____


❖ Ayusin ang prutas mula sa pinakamaliit na bilang hanggang sa pinakamalaki.

_____.

❖ Ayusin ang prutas mula sa pinakamaliit na bilang hanggang sa pinakamalaki.


_____.

Ang pagbibilang paabante ay nangangahulugang pagbibilang sa pinakamaliit hanggang sa pinakamalaki.



MGA PAGSASANAY

PANUTO: Ayusin ang mga bilang mula pinakamaliit hanggang pinakamalaki.





PAGLALAHAT

Tandaan:

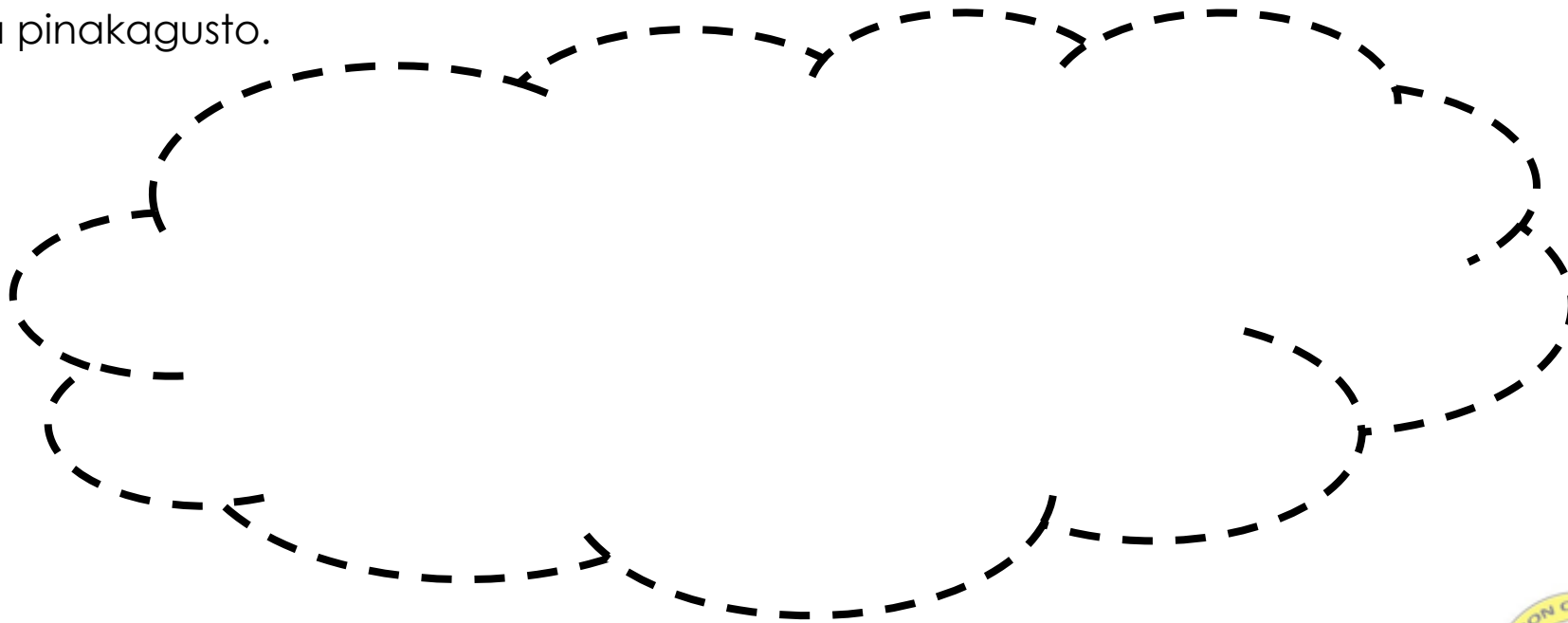
Ang bilang mula pinakamababa hanggang pinakamataas ay binibilang paabante o pagbibilang mula sa maliit na bilang hanggang sa malaking bilang.



PAGPAPAHALAGA

Sino na ang nakaranas nang pumunta sa mall at mamili ng mga laruan?

Gumuhit sa loob ng ulap ng mga laruan na inyong nabili mula sa inyong gusto hanggang sa pinakagusto.





SUSI SA PAGWAWASTO

1. 1,2 2. 5,6 3. 7,9 4. 0,1 5. 7	<u>Pagpapalitan:</u>	4,7,9 2,5,6	<u>Pagpapalitan:</u>	4,7,9 2,5,6
2. mangga, mansanas, sagging	<u>Aralin:</u>	1. 3 5. 3	<u>Pagpapalitan:</u>	3,4,8 0,2,3 1,2,3
3. 1				
4. 2				

PANUTO: Ayusin ang bilang mula pinakamaliit hanggang pinakamalaki.

<https://www.shutterstock.com/search/cartoon+flower+outline>
https://www.clipartkey.com/view/i/RJTRJT_pencil-of-gross-size-outline-outline-images-of/
<https://www.vectorstock.com/royalty-free-vector/glass-cup-of-tea-icon-outline-style-vector-9885985>





ARALIN 3


PANUTO: Bilangin ang mga bilang paatras.



Ang pagbilang paatras ay nangangahulugan ng mga bilang mula pinakamataas hanggang pinakamababa.

<https://www.pinterest.ph/pin/315111305163707623/>
<https://www.pinterest.es/pin/542472717619395027/>
<http://fainard.info/shelter-anime-song-download.html>
<https://ar.pinterest.com/pin/633529872556400613/>





MGA PAGSASANAY

PANUTO: Ayusin ang bilang mula pinakamalaki hanggang pinakamaliit.

Activity area containing four groups of numbers and illustrations:

- Group 1: Three strawberries with numbers 4, 3, and 5. Below them are three dashed boxes.
- Group 2: A fish with the number 3. Below it is one dashed box.
- Group 3: Three strawberries with numbers 8, 10, and 9. Below them are three dashed boxes.
- Group 4: A fish with the number 0. Below it is one dashed box.
- Group 5: Three tulips with numbers 6, 2, and 8. Below them are three dashed boxes.
- Group 6: A fish with the number 4. Below it is one dashed box.
- Group 7: Three tulips with numbers 5, 4, and 6. Below them are three dashed boxes.

PAGLALAHAT

<https://pngio.com/PNG/a85973-1-by-Alfred-ross.html>
<https://www.pinterest.ph/pin/541784506616911716/>
<http://e-sysdrawingguides.com/how-to-draw-a-strawberry/>



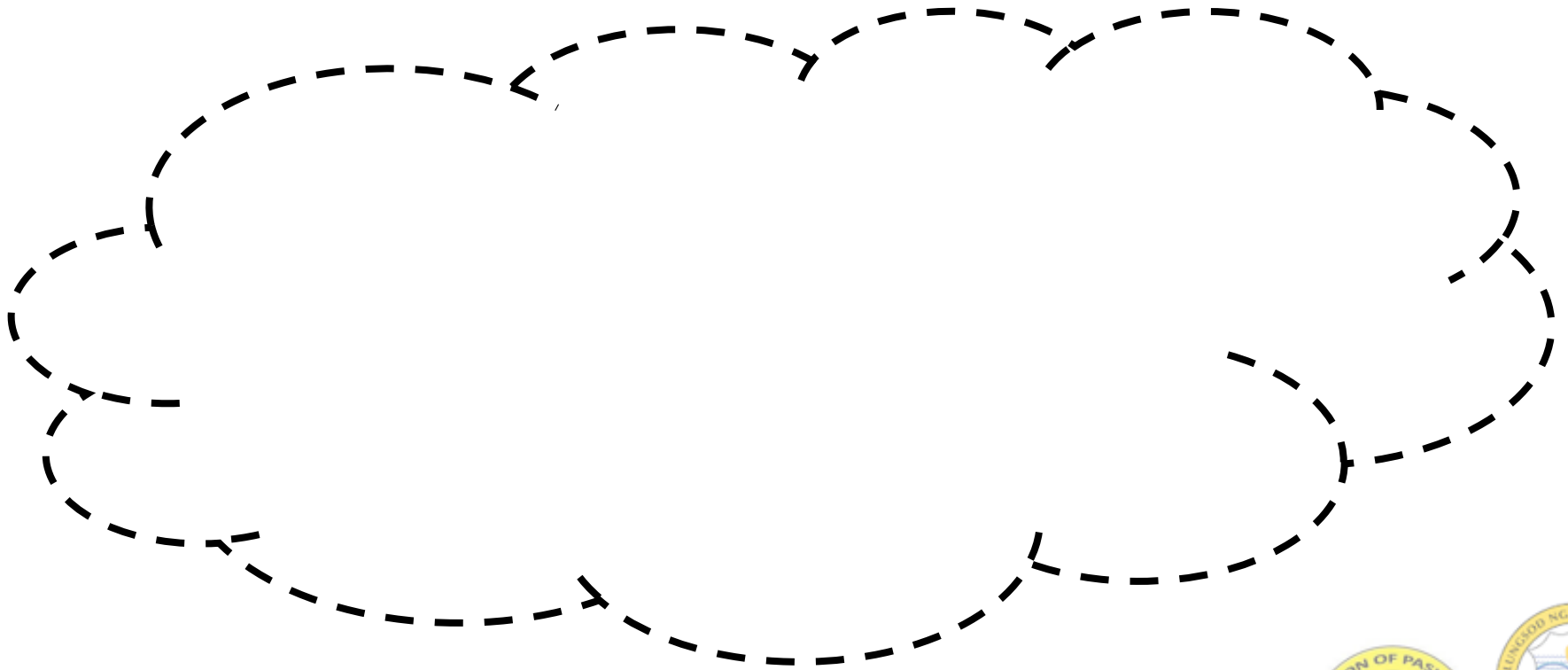
Tandaan:

Paano natin malalaman ang mga bilang ay mula sa pinakamalaki hanggang pinakamaliit?
Ito ay sa pamamagitan ng pagbilang paatras o mula sa pinakamalaking bilang hanggang sa pinakamaliit na bilang.



PAGPAPAHALAGA

Kayo ba ay nakakain ng iba't ibang prutas?
Iguhit ang mga ito mula sa pinakapaborito hanggang sa gusto niyo lamang.





SUSI SA PAGWAWASTO

<u>8,62</u>	<u>6,54</u>
<u>4,03</u>	
<u>5,43</u>	<u>10,98</u>
<u>Pagsasany:</u>	
<u>4,67</u>	<u>6,910</u>
<u>1,34</u>	
<u>0,35</u>	<u>2,78</u>
<u>Balik-aral:</u>	






MGA INAASAHAN

Sa dulo ng araling ito, inaasahan ko na kayo ay natuto nang;

- Magsama-sama ng mga bilang para makabuo ng mas malaki pang bilang
- Malaman ang proseso ng pagdadagdag.





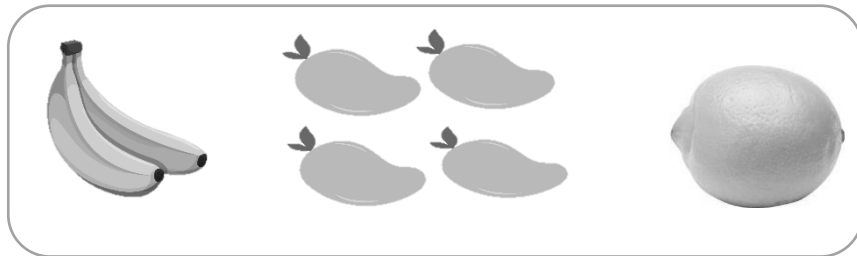
BALIK- ARAL

Magandang umaga! Kahapon, pinag-aralan natin kung paano magbilang pasulong o mula sa mababa- pataas ganun din ang pagbibilang paurong o mula sa mataas – pababa na bilang.

Ngayon, Subukin at Gawin:

Panuto : Ayusin ang bilang ayon sa tamang pagkakasunod-sunod nito.

Mababa-Pataas




5

7

9

Mataas-Pababa



6

3

8





ARALIN 4

Panuto: Pakinggan ang guro habang inaawit ang kantang “ May Isang Chickadee”.



Chickadee, Chickadee, Lilipad-lipad(2x)
May isang chickadee na dumapo sa sanga
Dumating ang isa dalawa na sila
Chickadee, Chickadee, Lilipad-lipad(2x)
May dalawang chickadee na dumapo sa sanga
Dumating ang isa tatlo na sila
Chickadee, Chickadee, Lilipad-lipad(2x)
May tatlong chickadee na dumapo sa sanga
Dumating ang isa apat na sila
Chickadee, Chickadee, Lilipad-lipad(2x)
May apat na chickadee na dumapo sa sanga
Dumating ang isa lima na sila
Chickadee, Chickadee, Lilipad-lipad(2x)




Sa ating kanta kanina, nabanggit natin kung ilang chickadee meron tayo.

Addition – pagsama-sama ng mga bilang ng mga numero.

Ginagamit natin ang simbolo na (+) o ang plus sign.

Halimbawa:




1 + 1 = 2

Isa

Isa

Dalawa




2 + 1 = 3

Dalawa

Isa

Tatlo

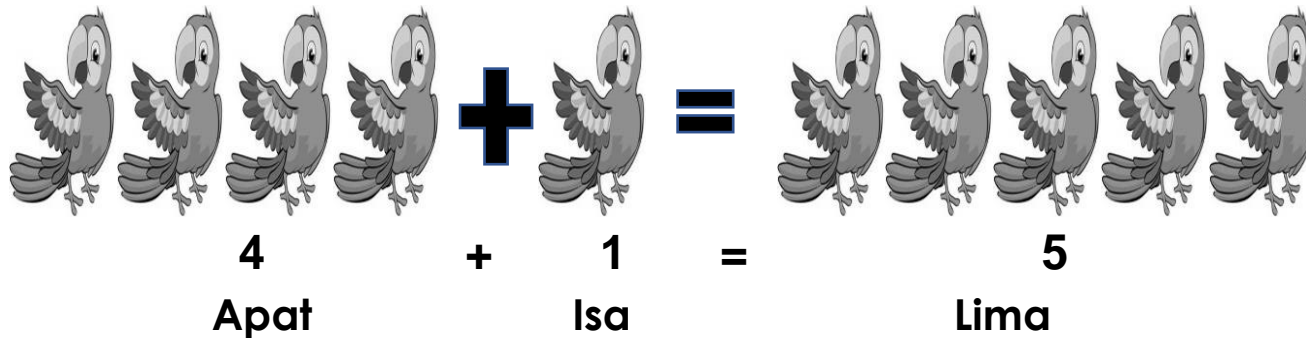


3 + 1 = 4

Tatlo

Isa


Apat



 **GAWAIN**

Panuto: Pagsamahin at bilangin ang mga larawan. Isulat ang bilang sa loob ng kahon.

1.




+ =

2.



+ =

3.



+ =

4.



+ =

5.



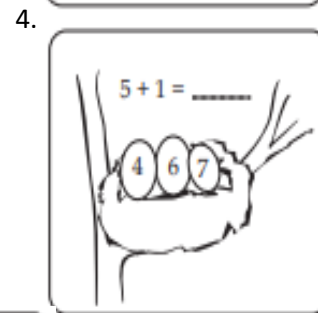
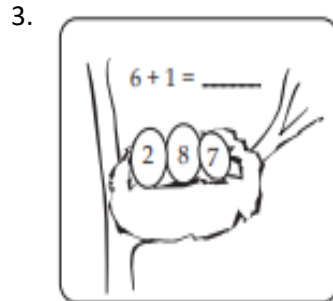
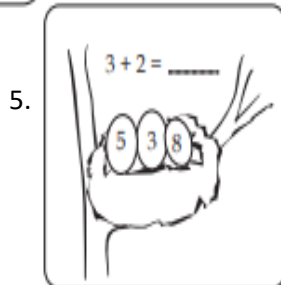
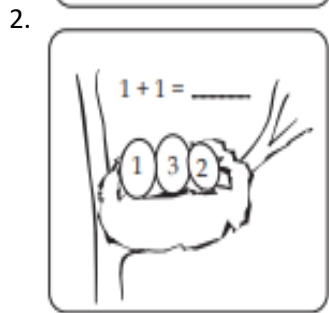

+ =



WRAP-UP



Panuto: Tulungan ang ibon na hanapin ang tamang itlog. Kulayan ang iyong sagot.



PAGPAPAHALAGA


Panuto: Kulayan ng tama ang larawan ayon sa kulay na angkop sa bilang.



1- Asul 2- Tsokolate 3-Dilaw 4- Pula 5-Puti 6-Itim



SUSI SA PAGWAWASTO



ACTIVITY 2

1. 1
2. 3
3. 0
4. 2
5. 5

ACTIVITY 1

1. $1+3=4$
2. $6+3=9$
3. $0+7=7$
4. $4+2=6$
5. $2+1=3$

RECAP



- 3
- 6
- 8
- 9
- 7
- 5

BALIK-ARAL

Panuto: Bilangin ang mga larawan. Punan ang patlang ng nawawalang bilang.




1.  +  = 

4 + _____ = 5




3.  + _____ = 

_____ + 3 = 3


2.   

4.  +  = 

1 + 1 = _____

 +  = 

4 + _____ = 7

5.  +  = 

_____ + 4 = 9





ARALIN 5

Pakinggan ang kuwento na babasahin ng guro.

Kaarawan ni Nonoy nang araw na iyon. Pumunta sa bayan ang kanyang ina upang mamalengke. Pag-uwi nito ay may iniabot itong maliit na kahon kay Nonoy. Agad na binuksan nito ang kahon at tumambad sa kanyang mga mata ang apat na bago at magarang laruang kotse. Maya-maya dumating din ang kanyang ama galing sa trabaho na may bitbit na supot at iniabot din kay Nonoy. Agad din niyang tiningnan ang laman nito at nakita niya na meron din itong dalawang laruang kotse. Masayang masaya si Nonoy sa araw ng kanyang kaarawan.

Tanong:

1. Ilang laruang kotse ang iniregalo ng kanyang Ina kay Nonoy?
2. Ilan naman ang ibinigay ng kanyang Ama?
3. Ilan lahat ang kanyang bagong laruan na kotse?





GAWAIN

Panuto: Sagutan ang mga sumusunod.

1. $3 \text{ hands} + 7 \text{ hands} = \underline{\hspace{2cm}}$

3. $4 \text{ hands} + 1 \text{ hand} = \underline{\hspace{2cm}}$

2. $4 \text{ hands} + 5 \text{ hands} = \underline{\hspace{2cm}}$

4. $1 \text{ hand} + 3 \text{ hands} = \underline{\hspace{2cm}}$

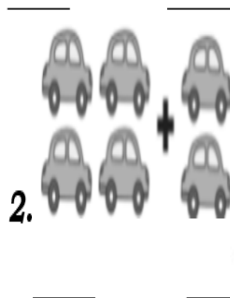
5. $3 \text{ hands} + 5 \text{ hands} = \underline{\hspace{2cm}}$





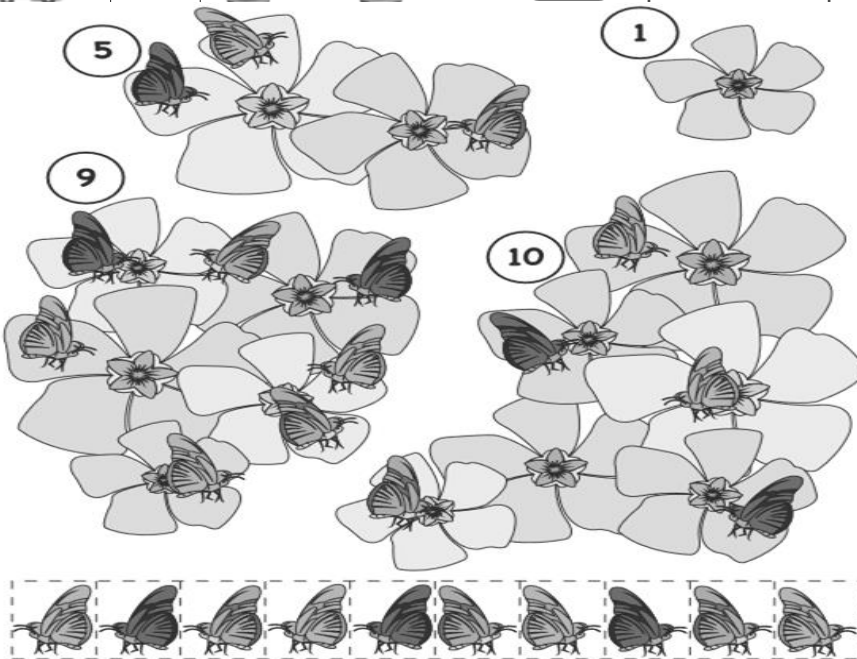
PAGLALAHAT

Panuto: Tulungan ang mga bebe na mabuo ang kanilang mga grupo. Gupitin ang mga larawan sa ibaba at idikit sa tabi ng kanilang mga kasamahan.



2.

5.



PAGPAPAHALAGA

Panuto: Tulungan ang mga paru-paro na makahanap ng kani-kanilang bulaklak. Gupitin ang mga ito sa ibaba at idikit sa nararapat na bulaklak.






SUSI SA PAGWAWASTO


BALIK-ARAL	1. 1
	2. 3
	3. 0
	4. 2
	5. 5
GAWAIN	1. 10
	2. 9
	3. 5
	4. 4
	5. 8










BALIK- ARAL



Panuto: Bilangin ang mga larawan. Isulat sa patlang ang iyong sagot.

1.  = _____
_____ + _____ = _____

3.  + _____ = _____
_____ + _____ = _____

2.  +  = _____
_____ + _____ = _____

4.  +  = _____
_____ + _____ = _____

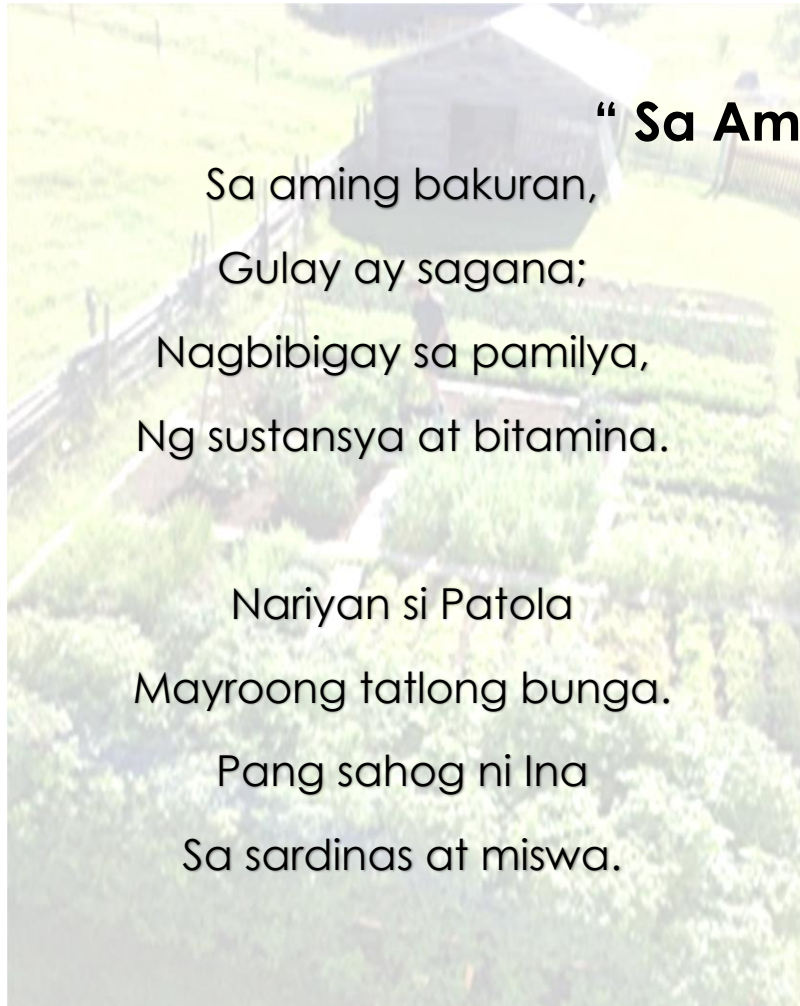
5.  +  = _____
_____ + _____ = _____





ARALIN 6

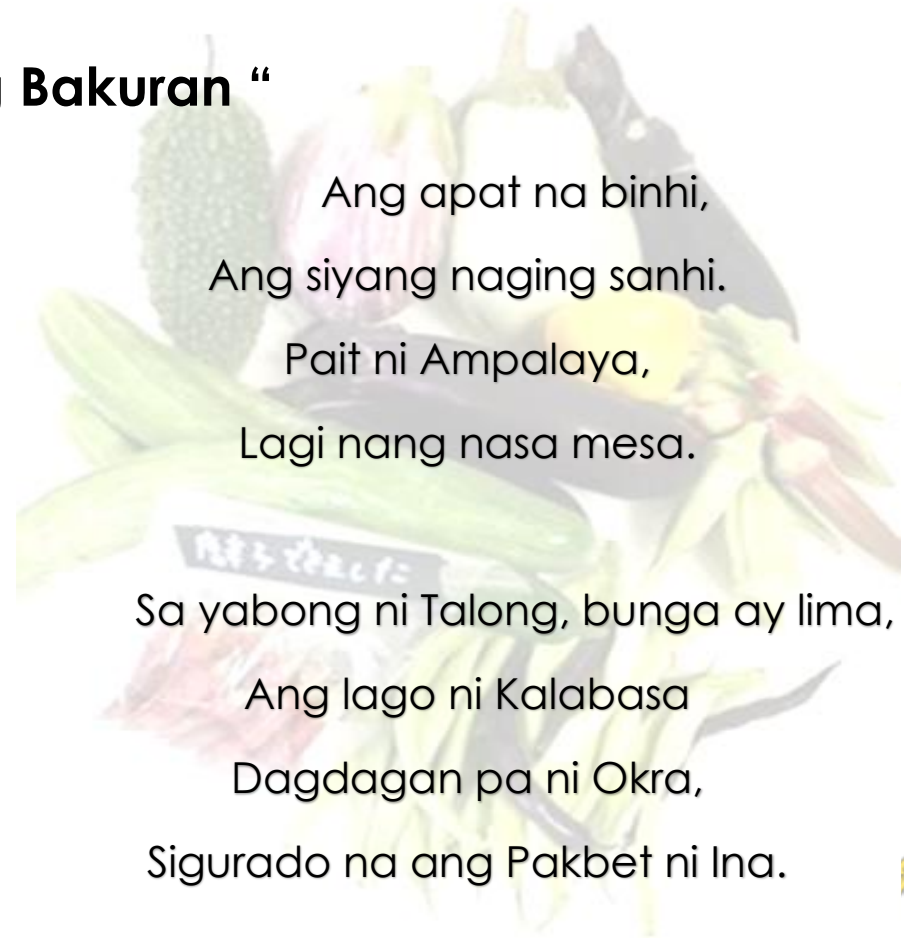
Makinig nang mabuti habang binibigkas ng guro ang tula.



“ Sa Aming Bakuran “

Sa aming bakuran,
Gulay ay sagana;
Nagbibigay sa pamilya,
Ng sustansya at bitamina.

Nariyan si Patola
Mayroong tatlong bunga.
Pang sahog ni Ina
Sa sardinas at miswa.



Ang apat na binhi,
Ang siyang naging sanhi.
Pait ni Ampalaya,
Lagi nang nasa mesa.



Sa yabong ni Talong, bunga ay lima,
Ang lago ni Kalabasa
Dagdagan pa ni Okra,
Sigurado na ang Pakbet ni Ina.





GAWAIN

Panuto: Bilangin ang mga larawan.





PAGLALAHAT

Panuto: Sagutan ang mga sumusunod . Isulat ang sagot sa loob ng bilog.


$$\star \star \star + \star \star = \bigcirc$$

$$\star \star \star \star + \star = \bigcirc$$

$$\star \star \star + \star \star \star \star = \bigcirc$$

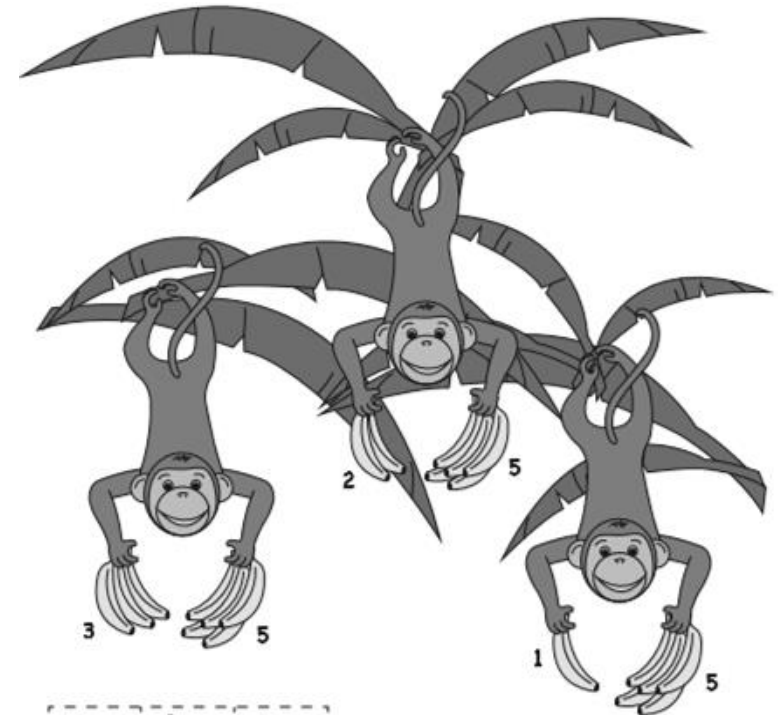
$$\star \star + \star \star = \bigcirc$$

$$\begin{matrix} \star & \star & \star & \star \\ \star & \star & \star & \star \end{matrix} + \begin{matrix} \star & \star & \star \\ \star & \star & \star \end{matrix} = \bigcirc$$



PAGPAPAHALAGA

Tulungan ang mga unggoy na pagpantay-pantayin mga hawak nilang saging upang patuloy silang makapagbaging.





SUSI SA PAGWAWASTO

5. 13

4. 4

3. 7

2. 5

1. 5

PAGLAHAT

5. $3 \overline{) 6}$

4. $7 \overline{) 11}$

3. $2 \overline{) 4}$

2. $4 \overline{) 9}$

1. $3 \overline{) 5}$

GAWAIN

5. $2+3=5$

4. $4+4=8$

3. $4+0=4$

2. $3+3=6$

1. $1+3=4$

BALIK-ARAL






MGA INAASAHAN

Sa dulo ng module na ito, inaasahan na ang mga mag-aaral ay

- akilala ang salitang “pagkuha”, “pagpapaunti” at ang “natira”
- Matutuhan ang proseso ng pagbabawas











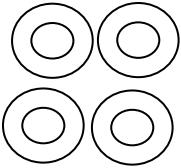


BALIK-ARAL


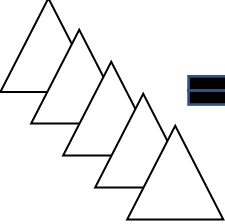

Bilangin ang mga larawan. Iguhit ang sagot sa loob ng kahon at isulat ang bilang sa patlang.

1.  +  = 
_____ + _____ = _____

2.  +  = 
_____ + _____ = _____

3.  +  = 
_____ + _____ = _____

4.  +  = 
_____ + _____ = _____

5.  +  = 
_____ + _____ = _____



ARALIN 7

Makinig na mabuti habang binabasa ng guro ang kwento.

Linggo ng umaga, ang Pamilyang Cruz ay namasyal sa plasa pagkatapos magsimba. Sa kanilang pamamasyal, nakakita si Jasmine ng ale na nagtitinda ng ibat ibang kulay na mga lobo. Nagpaalam siya sa kanyang Nanay kung maari siyang bumili ng lobo. Pumayag ito at binigyan siya ng pera. Bumili siya ng pitong lobo at ibinigay niya ang tatlong lobo sa kapatid niyang si Anton. Habang naglalaro si Anton ng kanyang mga lobo, nabitiwan nito ang isa at ito ay inilipad ng hangin palayo. Ilang lobo ang natira kay Anton?



Sa binasang kwento ng guro, bumili si Jasmine ng pitong lobo. Ibinigay niya ang tatlo kay Anton pero inilipad ng hangin ang isa. Ilang lobo ang natira sa kanila?



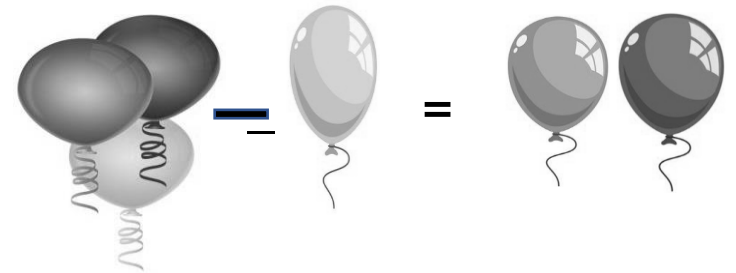

Subtraction- ay ang “**pagtatanggal/pag-aalis**” o “**gawing kaunti**” ng mga bagay

Difference – (“**natira**”) ang sagot sa pagbabawas.

— (Subtraction/minus Sign) – ang simbolo na ginagamit sa pagbabawas

$$7 - 3 = 4$$



$$3 - 1 = 2$$





GAWAIN

Panuto: Sagutan ang mga sumusunod. Isulat sa patlang ang nawawalang bilang.

1.  -  =


_____ - _____ = _____

2.  -  =

_____ - _____ = _____

3.  -  =

_____ - _____ = _____

4.  - _____ =

_____ - _____ = _____


5.  -  =

_____ - _____ = _____



PAGLALAHAT

Panuto: Hanapin ang tamang bituin. at kulayan ito.



1.

$9 - 2 = \underline{\quad}$

7 6

8

2.

$5 - 2 = \underline{\quad}$

4 3

7

3.

$10 - 2 = \underline{\quad}$

9 7

8

4.

$3 - 2 = \underline{\quad}$

1 5


2

5.

$6 - 2 = \underline{\quad}$













3 5

4



PAGPAPAHALAGA

Maglaro tayo ng taguan. Isulat ang sagot sa loob ng kahon.

Ilang bola ang nsa larawan?	Itinago ko ang iilan.	Ilan ang mga natira?	Iguhit ang aking mga itinago.
 <input type="text"/>		 <input type="text"/>	<input type="text"/>
 <input type="text"/>		 <input type="text"/>	<input type="text"/>
 <input type="text"/>		 <input type="text"/>	<input type="text"/>
 <input type="text"/>		 <input type="text"/>	<input type="text"/>





SUSI SA PAGWAWASTO

BALIK-ARAL

6. $3+0=3$
7. $2+3=5$
8. $1+1=2$
9. $4+2=6$
10. $5+5=10$

GAWAIN 1

1. $10-4=6$
2. $6-1=5$
3. $6-2=4$
4. $8-0=8$
5. $3-3=0$


PAGLALAHAT

1. 7
2. 3
3. 8
4. 1
5. 4

PAGPAPAHALAGA


11. $3+0=3$
12. $2+3=5$
13. $1+1=2$
14. $4+2=6$
15. $5+5=10$





BALIK-ARAL

Panuto: Bilangin ang mga sumusunod na larawan. Lagyan ng ekis ang tatlong larawan sa bawat grupo. Isulat ang natitirang bilang ng larawan sa patlang.





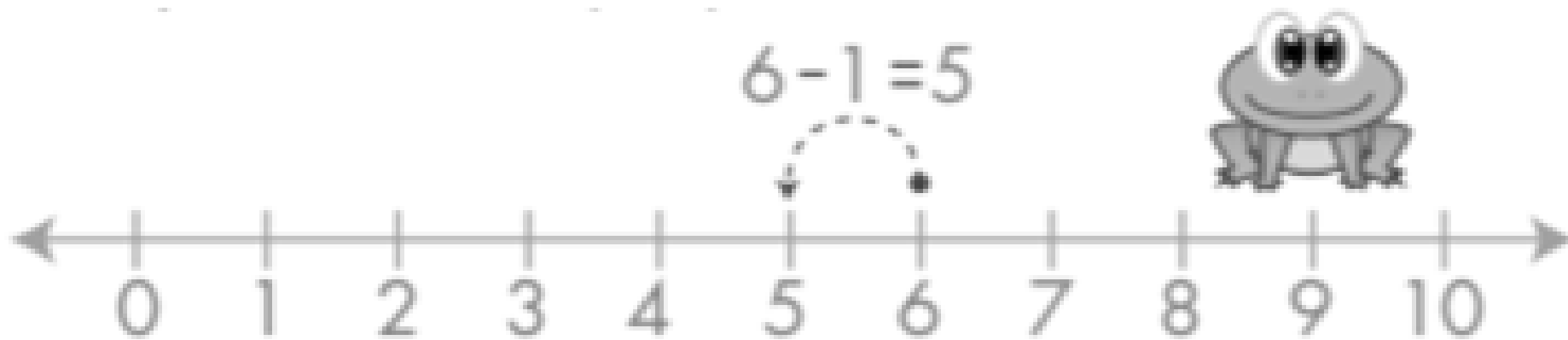
ARALIN 8

Panahon ng Modified Enhance Community Quarantine (MECQ) noon, ang mga bata ay hindi pinapayagang lumabas ng bahay nang walang suot na mask at walang kasamang nakatatanda na may edad 21 hanggang 59 taong gulang. Isang hapon, si Dennis at ang kaniyang apat na kaibigan ay nagpalipad ng limang saranggola sa kalsada nang walang suot na mask. Sa di-inaasahang pangyayari, sumabit sa kawad ng kuryente ang dalawang saranggola na naging dahilan upang ito'y umapoy at nagkaroon ng brownout sa kanilang lugar. Agad namang tinawag ng kanyang ina si Dennis. Maya maya pa'y dumating ang barangay tanod at kinausap sila.

Mga Tanong:

1. Mabuti bang gawain ang hindi pagsusuot ng mask kapag lalabas ng bahay?Bakit?
2. Nagsusuot ka ba ng mask kapag lumalabas ka ng bahay?
3. Nakapagpalipad ka na ba ng saranggola? Ligtas ba magpalipad nito sa kalsada? Bakit?





Gamit ang **Number Line** , sagutan natin ito:


Ilan lahat ang natirang bata sa kalsada?

$$5 - 1 = \underline{\quad}$$

Ilang saraggola ang hindi sumabit sa kawad ng kuryente?



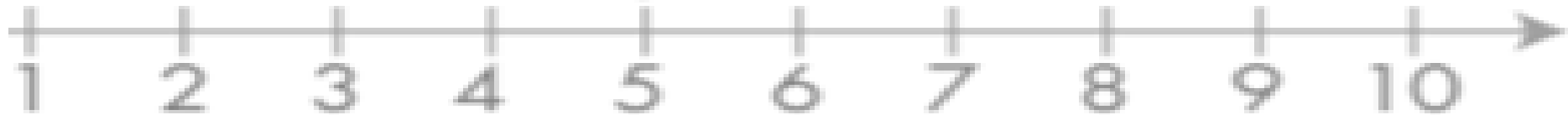

$$5 - 2 = \underline{\quad}$$



GAWAIN

Panuto: Sagutan ang mga sumusunod.

$$6 - 1 = 5$$



1.

$$6 - 2 = \square$$

4.

$$9 - 3 = \square$$

2.

$$7 - 3 = \square$$

5.

$$10 - 2 = \square$$

3.

$$3 - 2 = \square$$






PAGLALAHAT

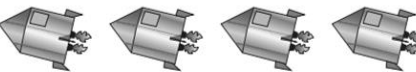
Bilangin ang mga sumusunod. Lagyan ng ekis ang bilang na ibinawas, Isulat sa patlang ang natitirang bilang.

 $7 - 5 = \underline{2}$


 $8 - 7 = \underline{\quad}$

 $9 - 2 = \underline{\quad}$

 $10 - 3 = \underline{\quad}$









 $4 - 1 = \underline{\quad}$

 $5 - 2 = \underline{\quad}$



PAGPAPAHALAGA

Panuto: Bilangin ang mga keso. Ilang keso ang kinain ng daga? Ilan pa ang natitira?

	-		=	<input type="text"/>
	-		=	<input type="text"/>
	-		=	<input type="text"/>
	-		=	<input type="text"/>






SUSI SA PAGWAWASTO

5.8	5.0
4.6	4.1
3.1	3.2
2.4	2.3
1.4	1.4
GAWAIN	BALIK-ARAL









BALIK - ARAL

Bilangin ang mga larawan. Isulat ang sagot sa kahon at bakatin ang bilang at sagutan ito pagkatapos.



1.



2.

3.

4.

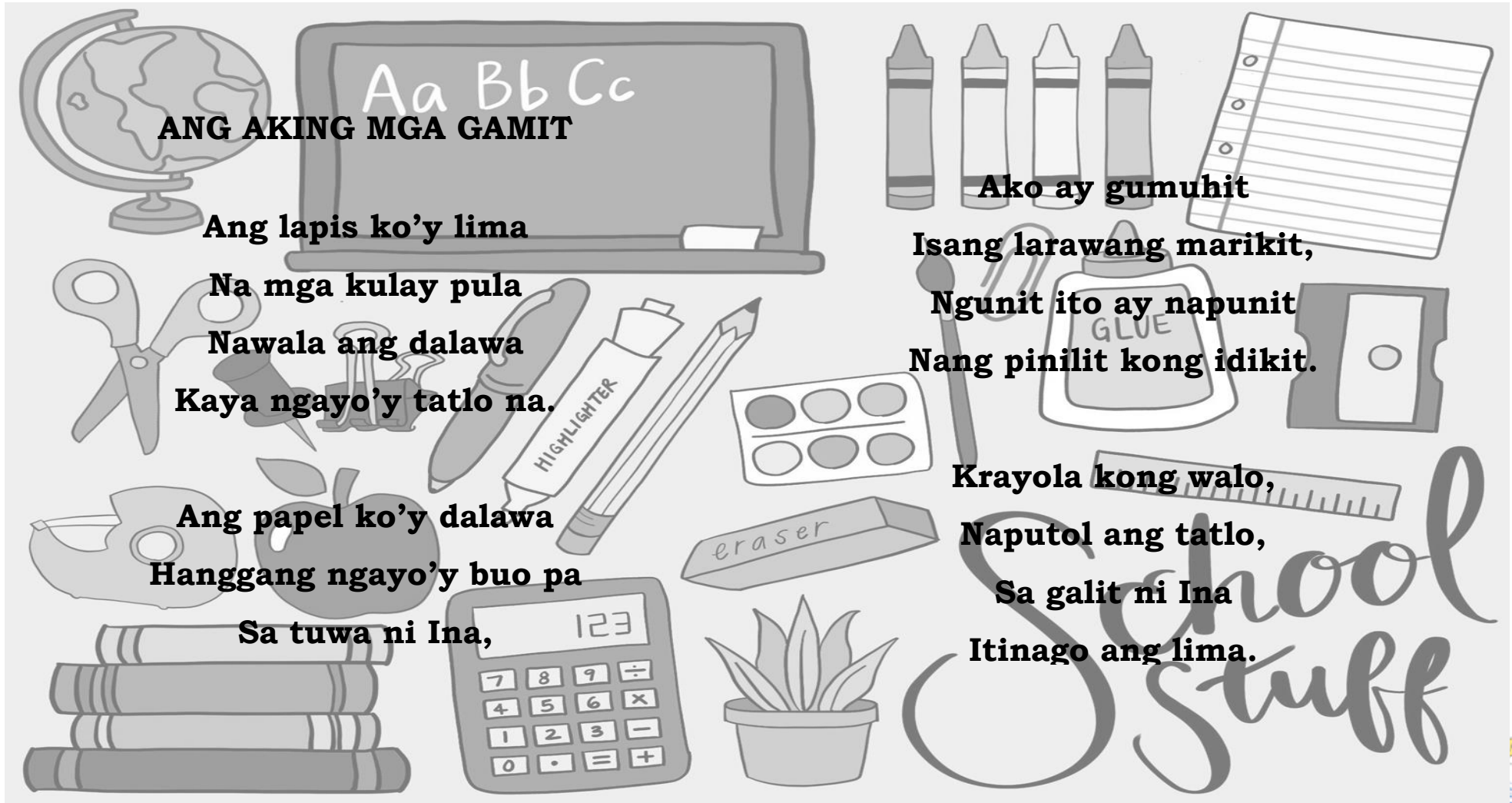
 






ARALIN 9

Pakinggan ang tula na bibigkasin ng guro.

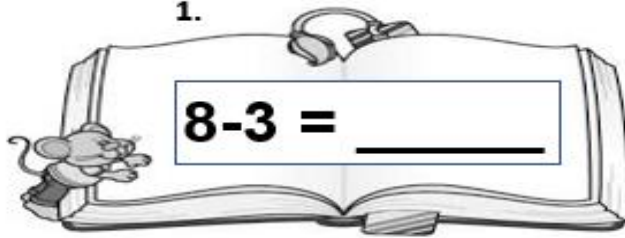





GAWAIN

Panuto: Sagutan ang mga sumusunod.

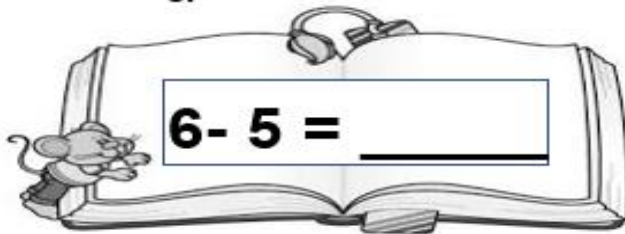
1.




2.



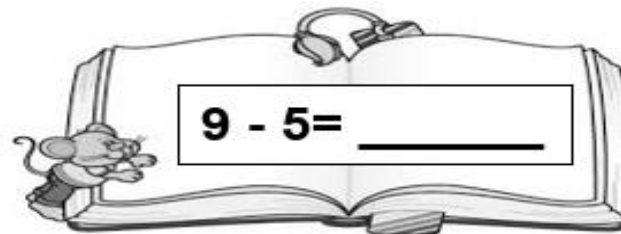
3.



4.



5.



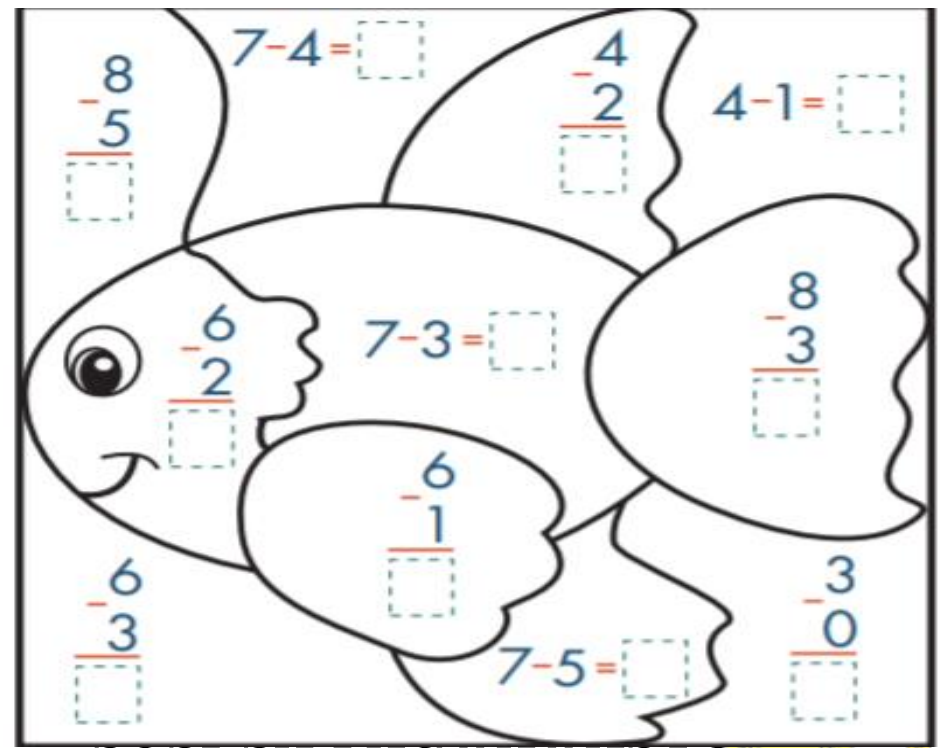


PAGPAPAHALAGA

Panuto: Sagutan ang mga sumusunod.

	Ilang lapis lahat ito?	10
	Lagyan ng ekis ang dalawa.	-2
	Ilan ang natitirang lapis?	8
	Ilang aklat lahat ito?	
	Lagyan ng ekis ang tatlo.	
	Ilang aklat ang natitira?	
	Ilang krayola lahat ito?	
	Lagyan ng ekis ang apat.	
	Ilang krayola lahat ang natira?	
	Ilang pambura lahat ito?	
	Tanggalin ang isa.	
	Ilan ang pamburang natitira?	
	Ilang pad na papel lahat ito?	
	Tanggalin ang dalawa.	
	Ilang pad na papel ang natitira?	

Kulayan ang isda ayon sa sagot nito.
 Kapag ang sagot ay **2**, ang bahaging iyon ay kulay Kahel
3- kulay **Asul** , **4**- kulay **Berde** at kapag ito naman ay **5**- kulay **Dilaw**





SUSI SA PAGWAWASTO

Balik-aral	1. 1	2. 1	3. 2	4. 0	5.
Gawain	1. 5	2. 2	3. 1	4. 0	5. 4

0	-2	2	3	-1	4	2	-4	6	8	-3	6
PAGLALAHAT											



S A N G G U N I A N

- https://toppng.com/clipart-kids-hug-kids-girl-clipart-PNG-free-PNG-Images_225187
- https://www.pngfind.com/mpng/ihxTmwi_691-x-1157-4-0-popsicle-drawing-png/
- <https://www.bforball.com/drawing-lessons-ball.php>
- <https://www.drawingtutorials101.com/how-to-draw-a-rugby-ball>
- <https://pixy.org/389256/>
- <https://www.vectorstock.com/royalty-free-vector/blank-white-t-shirt-template-vector-1544587>
- <https://webstockreview.net/explore/underwear-clipart-sando/>
- <https://www.shutterstock.com/search/skirt+sketch>
- <https://www.pinterest.jp/pin/317151998760174899/>
- <https://www.pinterest.ph/pin/411868328418322648/>
- <https://www.vectorstock.com/royalty-free-vector/sun-solar-system-astronomy-outline-vector-13886570>
- <https://www.vectorstock.com/royalty-free-vector/earth-planet-icon-outline-style-vector-22367498>
- <https://www.shareicon.net/water-drop-shape-interface-liquid-outlined-outline-ink-687409>
- https://toppng.com/clipart-kids-hug-kids-girl-clipart-PNG-free-PNG-Images_225187
- <https://www.shutterstock.com/search/apple+outline>
- <https://micromundoarts.blogspot.com/2017/11/30-trends-ideas-drawing-outline-image.html>
- <https://micromundoarts.blogspot.com/2017/11/30-trends-ideas-drawing-outline-image.html>
- <https://www.thebestideasforkids.com/leaf-template/>
- <http://clipart-library.com/clipart/BTaEnoykc.htm>
- <https://www.shutterstock.com/search/cartoon+flower+outline>
- <https://www.pinterest.ph/pin/325455510547435893/>
- <https://www.pinterest.ph/pin/325455510546464126/>
- <https://www.pinterest.ph/pin/429601251941012834/>
- https://www.clipartkey.com/view/iRJTRJT_pencil-of-gross-size-outline-outline-images-of/
- <https://www.vectorstock.com/royalty-free-vector/glass-cup-of-tea-icon-outline-style-vector-9885985>
- <https://www.pinterest.ph/pin/315111305163707623/>



- <https://www.pinterest.es/pin/542472717619395027/>
- <http://fainard.info/shelter-anime-song-download.html>
- <https://ar.pinterest.com/pin/633529872556400613/>
- <https://pngio.com/PNG/a85973-tulip-outline-png.html>
- <https://www.pinterest.ph/pin/521784306818911710/>
 - <https://easydrawingguides.com/how-to-draw-a-strawberry/>
 - <https://www.youtube.com/watch?v=IFCGEExyoYw>
 - <https://www.youtube.com/watch?v=pxUY29LpMZE>
 - https://www.youtube.com/watch?v=NO_TWQTrJ-k
 - [https://www.pinterest.ph/search/pins/?q=bunny%20rabbit%20drawing&rs=guide&term_meta\[\]=rabbit%7Cautocomplete%7C2&term_meta\[\]=drawing%7Cautocomplete%7C2&add_refine=bunny%20rabbit%20drawing%7Cguide%7Cword%7C3](https://www.pinterest.ph/search/pins/?q=bunny%20rabbit%20drawing&rs=guide&term_meta[]=rabbit%7Cautocomplete%7C2&term_meta[]=drawing%7Cautocomplete%7C2&add_refine=bunny%20rabbit%20drawing%7Cguide%7Cword%7C3)
 - [https://www.pinterest.ph/search/pins/?rs=ac&len=2&q=boy%20playing%20with%20toy%20car&eq=BOY%20PLAYING%20TOY&etslf=22299&term_meta\[\]=boy%20playing%20with%20toy%20car%7Cautocomplete%7C1](https://www.pinterest.ph/search/pins/?rs=ac&len=2&q=boy%20playing%20with%20toy%20car&eq=BOY%20PLAYING%20TOY&etslf=22299&term_meta[]=boy%20playing%20with%20toy%20car%7Cautocomplete%7C1)
 - <https://www.pinterest.ph/pin/333547916147277540/>
 - <https://www.pinterest.ph/pin/807903620640430722/>
 - <https://www.pinterest.ph/pin/300967187600941476/>
 - [https://www.pinterest.ph/search/pins/?rs=ac&len=2&q=orange%20drawing%20simple&eq=orange%20drawing&etslf=8547&term_meta\[\]=orange%7Cautocomplete%7C1&term_meta\[\]=drawing%7Cautocomplete%7C1&term_meta\[\]=simple%7Cautocomplete%7C1](https://www.pinterest.ph/search/pins/?rs=ac&len=2&q=orange%20drawing%20simple&eq=orange%20drawing&etslf=8547&term_meta[]=orange%7Cautocomplete%7C1&term_meta[]=drawing%7Cautocomplete%7C1&term_meta[]=simple%7Cautocomplete%7C1)
 - [https://www.pinterest.ph/search/pins/?rs=ac&len=2&q=orange%20drawing%20fruit&eq=orange%20drawing%20fruit&etslf=11003&term_meta\[\]=orange%7Cautocomplete%7C0&term_meta\[\]=drawing%7Cautocomplete%7C0&term_meta\[\]=fruit%7Cautocomplete%7C0](https://www.pinterest.ph/search/pins/?rs=ac&len=2&q=orange%20drawing%20fruit&eq=orange%20drawing%20fruit&etslf=11003&term_meta[]=orange%7Cautocomplete%7C0&term_meta[]=drawing%7Cautocomplete%7C0&term_meta[]=fruit%7Cautocomplete%7C0)
 - <https://www.pinterest.ph/pin/798192733933274235>
 - [https://www.pinterest.ph/search/pins/?rs=ac&len=2&q=balloon%20seller%20drawing&eq=balloon%20sell&etslf=17232&term_meta\[\]=balloon%7Cautocomplete%7C1&term_meta\[\]=seller%7Cautocomplete%7C1&term_meta\[\]=drawing%7Cautocomplete%7C1](https://www.pinterest.ph/search/pins/?rs=ac&len=2&q=balloon%20seller%20drawing&eq=balloon%20sell&etslf=17232&term_meta[]=balloon%7Cautocomplete%7C1&term_meta[]=seller%7Cautocomplete%7C1&term_meta[]=drawing%7Cautocomplete%7C1)
 - https://www.pinterest.ph/search/pins/?q=Clip%20art&rs=autocomplete_bubble&id=BKkcO8-6tT_wAAAAAAAAABCK7o9xfGWRqhHsySX7fwnhQyiOp6_mMTRxOpFKGfoDR_PwMi4fEaMVHWnC-Y8yH8RRMyt_-qcRw&source_id=hG187Vt6
 - <https://www.pinterest.ph/pin/288230444904504361/>
 - https://www.google.com/search?q=fish+clipart+black+and+white&tbm=isch&chips=q:fish+clipart+black+and+white,g_1:printable:EPUqnOGvbnY%3D&rlz=1C1CHBF_enPH914PH914&hl=en&sa=X&ved=2ahUKewjb9LOqy9HrAhWVYIsBHer9A0QQ41YoAnoECAEQGQ&biw=1349&bih=576



- https://www.google.com/search?q=ball+clipart&rlz=1C1CHBF_enPH914PH914&sxsrf=ALeKk00kNvrbhISvBIMmchlWna-lmvtmIw:1599294553401&tbm=isch&source=iu&ictx=1&fir=M6DUInupWrfHnM%252CtXxBeZXFvNDcEM%252C_&vet=1&usg=AI4_-kSOQmpkBkKYjGkMDxvkeDMWYN_m5w&sa=X&ved=2ahUKEWjKn_y9zNHrAhWEEqYKHaeDBHYQ9QF6BAGKEF4&biw=1366&bih=576#imgcr=btWWVEKX3oRlkM
- https://www.google.com/search?q=book+clipart&tbm=isch&rlz=1C1CHBF_enPH914PH914&hl=en&sa=X&ved=2ahUKEwiSsNLCzNHrAhUM_5QKHVgwCSIQrNwCKAF6BQgBEIoB&biw=1349&bih=576#imgcr=B2wgKdDyIlg7M
- https://www.google.com/search?q=pencil+clipart&rlz=1C1CHBF_enPH914PH914&sxsrf=ALeKk03-mHy72qZTovpPQ6MY3Bgvjopyw:1599294911485&tbm=isch&source=iu&ictx=1&fir=UD7zf8bV0ZK1BM%252CnA0EJgv36aR7eM%252C_&vet=1&usg=AI4_-kRbw-ptzNiMmxERKhFJ7CWHrLeUkQ&sa=X&ved=2ahUKEwiggtzozdHrAhWQv5QKHSPjCogO9QF6BAGKEF0&biw=1366&bih=576#imgcr=UD7zf8bV0ZK1BM
- https://www.google.com/search?q=crayon+clipart&tbm=isch&rlz=1C1CHBF_enPH914PH914&hl=en&sa=X&ved=2ahUKEwiloITyZdHrAhX4zIsBHYQaDdAQrNwCKAF6BQgBEMIB&biw=1349&bih=576
- https://www.google.com/search?q=jet+plane+drawing&rlz=1C1CHBF_enPH914PH914&sxsrf=ALeKk01EIEjSmri14-3mDCgd_sHsbiisw:1599299694358&tbm=isch&source=iu&ictx=1&fir=e3EaolKX45LR1M%252CnNYYZ6ABUm3SfM%252C_&vet=1&usg=AI4_-kRuJ3qSf6X5hAdzL6WcAmY1xRK0pQ&sa=X&ved=2ahUKEwiOnq_R39HrAhXxFqYKHVRJBmMQ9QF6BAGFEFE&biw=1366&bih=576#imgcr=e3EaolKX45LR1M
- https://www.google.com/search?q=chickadee+song&rlz=1C1CHBF_enPH914PH914&sxsrf=ALeKk019A_T8tGtHRpyEodXaGMFy_LxX7w:1599304167236&source=lnms&tbm=isch&sa=X&ved=2ahUKEWjTipqm8NHrAhUZxosBHc7PCn0Q_AUoAnoECA0QBA&biw=1366&bih=576#imgcr=N38lcOeJ-XON-M
- https://www.google.com/search?q=potato&rlz=1C1CHBF_enPH914PH914&sxsrf=ALeKk03FpQuIwACgcC2xFTa_WeS-jLN8Ww:1599345683601&tbm=isch&source=iu&ictx=1&fir=SU39qkv4ifF37M%252C1vACLvX89A_ULM%252C_&vet=1&usg=AI4_-kR_g6ljHrWPo4m-2qATl47IH6mwBA&sa=X&ved=2ahUKEwiF4t_6itPrAhWhHqYKHVXvDzwQ9QF6BAGDEFg&biw=1366&bih=576#imgcr=hVA5V6k6tlrlEM
- https://www.bing.com/images/search?view=detailV2&ccid=YnUd5h8J&id=1C6ED90A631CA895D254DE3914B6A4EBCE30AA2C&thid=OIP.YnUd5h8J36e6XvinUBm6uwAAAA&mediaurl=https%3a%2f%2fstatic.abcteach.com%2ffree_preview%2fe%2feraserrgb_p.png&exph=304&expw=304&q=Eraser+Clip+Art+Black+and+White&simid=608015439160479301&ck=22ADA5E7E33487291799586DF58031C1&selectedIndex=17&FORM=IRPRST&ajaxhist=0

